


Ενότητα 3: Η κοινότητά μας

Αγαπημένα μου παιδιά, σας χαιρετώ!

Εύχομαι να είστε όλοι καλά και να περνάτε ευχάριστα και δημιουργικά τις ώρες σας. Για αυτή την εβδομάδα θα ήθελα να δείτε με προσοχή ξανά την παρουσίαση «Πώς χρησιμοποιούμε τη γη» και στη συνέχεια να λύσετε τις σελίδες 29 - 31 του βιβλίου σας (αυτές που φαίνονται στις πιο κάτω φωτογραφίες). Μπορείτε να μου στέλνετε τις εργασίες σας στο email μου: spryroukleopatra@yahoo.gr

Πώς χρησιμοποιούμε τη γη

1. Αντιστοιχίζουμε τις εικόνες με τα ονόματα των ζωνών, που δείχνουν πώς χρησιμοποιούν οι άνθρωποι τη γη.



- οικιστική ζώνη
- αγροτική ζώνη
- εμπορική ζώνη
- βιοτεχνική ζώνη


2. Συμπληρώνουμε τις προτάσεις:

- Το κύριο χαρακτηριστικό της εμπορικής ζώνης είναι τα
- Στην οικιστική ζώνη υπάρχουν πολλά
- Στη βιοτεχνική - βιομηχανική ζώνη υπάρχουν
- Η αγροτική ζώνη αποτελείται από

29

Διαφορετικές Ζώνες

1. Συμπληρώνουμε τις προτάσεις δίπλα σε κάθε φωτογραφία, για να περιγράψουμε και να ονομάσουμε τη ζώνη που δείχνει πώς χρησιμοποιείται η γη.



Περιστέρωνα
Στη φωτογραφία φαίνονται
Βρίσκονται στη(ν) ζώνη.


Λευκωσία
Στη φωτογραφία φαίνονται
Βρίσκονται στη(ν) ζώνη.

Εργάτες
Στη φωτογραφία φαίνονται
Βρίσκονται στη(ν) ζώνη.

30


2. Σε κάθε αεροφωτογραφία αναγνωρίζουμε τις ζώνες που φαίνονται και σχεδιάζουμε περίγραμμά τους.

Φρέναρος - Επαρχία Αιμοχώστου



- οικιστική ζώνη
- βιοτεχνική ζώνη
- αγροτική ζώνη

Αγλαντζά - Επαρχία Λευκωσίας



- οικιστική ζώνη
- ζώνη προστασίας (πάρκο)

31