

ΟΙ ΑΡΙΘΜΟΙ ΜΕΧΡΙ ΤΟ 100

1. Γράψε τον αριθμό.

5 δεκάδες + 6 μονάδες _____ 4 δεκάδες + 1 μονάδα _____

7 δεκάδες + 1 μονάδα _____ $40+9$ _____

82 μονάδες _____ 78 μονάδες _____

3 μονάδες + 9 δεκάδες _____ 8 μονάδες + 1 δεκάδα _____

$50+6$ _____ 2 δεκάδες + 6 μονάδες _____

4 μονάδες + 8 δεκάδες _____ 43 μονάδες _____



2. Γράψε τον αριθμό.

ενενήντα οχτώ _____

είκοσι οχτώ _____


εβδομήντα εννιά _____

πενήντα πέντε _____


σαράντα τρία _____

εξήντα τέσσερα _____


3. Χρωμάτισε όσα σου γέει ο αριθμός.



46



73



38

