


Μάθημα Μουσικής Β' Τάξης

Στα προηγούμενα μαθήματα μάθαμε ότι το πεντάγραμμο αποτελείται από 5 γραμμές και 4 διαστήματα. Σε αυτά τοποθετούνται διάφορες νότες




***** ΝΑ ΘΥΜΑΣΤΕ ΠΑΝΤΑ ΜΕΤΡΑΜΕ ΑΠΟ ΚΑΤΩ ΠΡΟΣ ΤΑ ΠΑΝΩ*****


ΑΣΚΗΣΗ 1. ΝΑ ΒΑΛΕΤΕ ΤΗΝ ΝΟΤΑ ΟΠΟΥ ΑΝΑΓΡΑΦΕΤΑΙ, ΟΠΩΣ ΦΑΙΝΕΤΑΙ ΣΤΟ ΠΑΡΑΔΕΙΓΜΑ




1^ο διάστημα



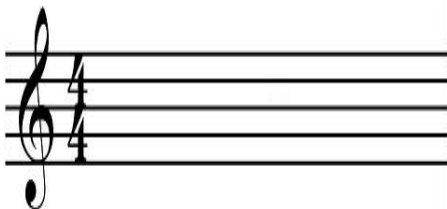
2^ο ΔΙΑΣΤΗΜΑ



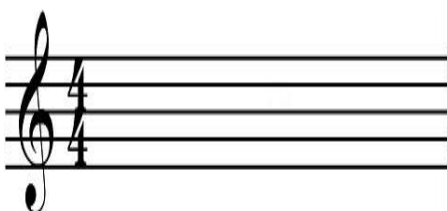
3^η ΓΡΑΜΜΗ



4^ο ΔΙΑΣΤΗΜΑ




5^η ΓΡΑΜΜΗ



3^ο ΔΙΑΣΤΗΜΑ


Μάθημα Μουσικής Β' Τάξης

ΑΣΚΗΣΗ 2. ΚΑΤΩ ΑΠΟ ΚΑΘΕ ΝΟΤΑ ΝΑ ΒΑΛΕΤΕ ΕΑΝ ΕΙΝΑΙ ΓΡΑΜΜΗ Ή ΔΙΑΣΤΗΜΑ, ΚΑΘΩΣ ΚΑΙ ΤΟΝ ΑΡΙΘΜΟ



ΦΑ ΛΑ ΝΤΟ ΜΙ

1^ο ΔΙΑΣΤΗΜΑ _____ _____ _____



ΜΙ ΣΟΛ ΣΙ ΡΕ ΦΑ

_____ _____ _____ _____

ΑΣΚΗΣΗ 3. ΝΑ ΓΡΑΨΕΤΕ ΤΟ ΟΝΟΜΑ ΤΗΣ ΝΟΤΑΣ ΟΠΟΥ ΥΠΑΡΧΕΙ ΑΣΤΕΡΑΚΙ, ΣΥΜΦΩΝΑ ΜΕ ΤΗΝ ΠΡΟΗΓΟΥΜΕΝΗ ΑΣΚΗΣΗ

