


Μάθημα Μουσικής Α Τάξης

Στα προηγούμενα μαθήματα μάθαμε ότι το πεντάγραμμο αποτελείται από 5 γραμμές και 4 διαστήματα. Σε αυτά τοποθετούνται διάφορες νότες




***** ΝΑ ΘΥΜΑΣΤΕ ΠΑΝΤΑ ΜΕΤΡΑΜΕ ΑΠΟ ΚΑΤΩ ΠΡΟΣ ΤΑ ΠΑΝΩ*****


ΑΣΚΗΣΗ 1. ΝΑ ΒΑΛΕΤΕ ΤΗΝ ΝΟΤΑ ΟΠΟΥ ΑΝΑΓΡΑΦΕΤΑΙ, ΟΠΩΣ ΦΑΙΝΕΤΑΙ ΣΤΟ ΠΑΡΑΔΕΙΓΜΑ




1^ο διάστημα



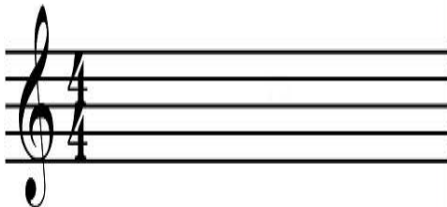
2^ο ΔΙΑΣΤΗΜΑ



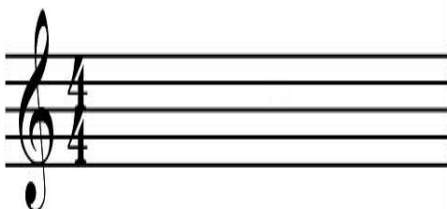
3^η ΓΡΑΜΜΗ



4^ο ΔΙΑΣΤΗΜΑ



5^η ΓΡΑΜΜΗ



3^ο ΔΙΑΣΤΗΜΑ